

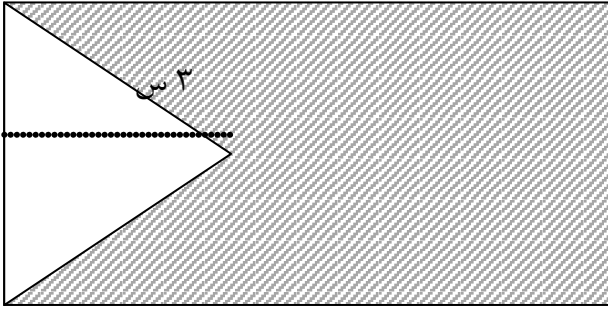


<p>نام و نام خانوادگی: ..... آزمون ریاضی پایه ی چهارم آموزشگاه.....</p> <p>نام پدر: ..... (نوبت دوم) خردادماه      زمان : ۹۰ دقیقه</p>	
۱	<p>عدد پنج میلیارد و چهارصد و دو میلیون و سیصد و چهارده هزار و هفتصد و هشتاد: الف) عدد بالا را به رقم بنویس.....</p> <p>ب) چند رقمی است؟ ..... ج) رقم صدگان هزار آن چند است؟ .....</p>
۲	<p>حاصل عبارت های زیر را به دست بیاور.</p> $187547 - 149317$ $275 - (147 + 79) =$
۳	<p>علامت مناسب <math>&gt;</math> <math>&lt;</math> <math>=</math> بگذار.</p> $\frac{3}{5} \square \frac{5}{10}$ $\frac{3}{4} \square \frac{12}{20}$ $\frac{1}{2} \square \frac{5}{12}$ $\frac{3}{14} \square \frac{2}{7} = \text{---}$
۴	<p>به جای مربع عدد مناسب بنویس.</p> $\frac{9}{\square} = \frac{3}{6}$ $\frac{\square}{7} = \frac{16}{28}$ $\frac{7}{8} = \frac{\square}{40}$ $\frac{6}{9} = \frac{2}{\square}$
۵	<p>حاصل ضرب های زیر را بدست بیاور.</p> $\begin{array}{r} 1467 \\ \times 4 \\ \hline \end{array}$ $\begin{array}{r} 436 \\ \times 75 \\ \hline \end{array}$
۶	<p>تقسیم زیر را انجام بده و باقی مانده و خارج قسمت را مشخص کن.</p> $7065 \overline{) 21}$ <p>باقی مانده.....</p> <p>خارج قسمت.....</p>
۷	<p>کسر های داده شده را روی شکل نشان بده.</p> <p>3</p>  <p>8</p> <p>4</p>  <p>- 5 -</p>

۸	<p>ابتدا دور اعدادی که بر ۲ بخش پذیرند خط بکش و سپس زیر اعدادی که بر ۵ بخش پذیرند خط بکش.                  ۱۸۹ - ۹۳۵ - ۷۸۳ - ۹۶۱ - ۶۷۰ - ۲۳۸</p>
۹	<p>در یک زمین کشاورزی گندم و زمین را جز <math>\frac{1}{6}</math> اند. حساب کن چه کسری از زمین زیر کشت گندم و جو رفته است؟</p>
۱۰	<p>یک دونه دو دور زمین بازی که به شکل مستطیل بود دور زد، اگر طول این زمین ۸۵ متر و عرض آن ۳۴ متر باشد . حساب کن این دونه چند متر دویده است؟</p>
۱۱	<p>جمله های صحیح و غلط را مشخص کن.                  الف) هر مربع یک مستطیل است. صحیح غلط                  ب) در مستطیل قطر ها با هم برابر اند. صحیح غلط                  ج) در متوازی الاضلاع ، اضلاع روبرو با هم موازی نیستند. صحیح غلط                  د) در لوزی قطر ها بر هم عموداند. صحیح غلط</p>
۱۲	<p>سعید ۷ سال سن دارد. سن پدر سعید از ۴ برابر سن او ۵ سال بیشتر است . پدر سعید چند سال سن دارد؟</p>
۱۳	<p>حاصل را بدست بیاور.  <math display="block">\frac{3}{7} + \frac{5}{14} =</math> <math display="block">\frac{3}{4} + \frac{9}{20} =</math> <math display="block">\frac{3}{4} - \frac{3}{8} =</math></p>
۱۴	<p>زوایه ی قائمه ای بکش و سپس نیمساز آن را رسم کن.</p>

۸ س



۴ س

« موفق و سربلند باشید »