



۱- عدد ۶۷۴۲۱۵، چند رقمی است؟

- رقم یکان هزار آن چند است؟

- رقم دهگان آن چند است؟

۲- در جاهای خالی، کلمات مناسب بنویسید.

- اندازه‌ی دور هر شکل را آن شکل می‌گویند.

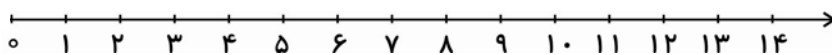
- حاصل ضرب هر عدد در صفر برابر است با

- به جواب تقسیم می‌گویند.

- نصف یعنی و $\frac{1}{5}$ را می‌گویند.

- مثلثی که سه ضلع هم‌اندازه داشته باشد، مثلث می‌گویند.

۳- تساوی $۲ \times ۴ = ۴ \times ۲$ ، را روی محور اعداد نشان دهید.



۴- در جاهای خالی عدد مناسب بنویسید.

- ۲ کیلومتر و ۴۰۰ متر = متر

- ۵۳۴۲ متر = کیلومتر و متر

- ۳۶۱۴ میلی‌متر = متر و سانتی‌متر و میلی‌متر

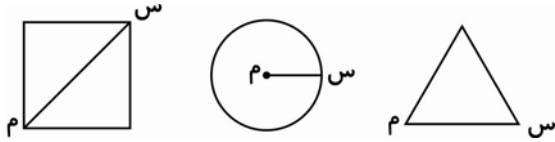
- یک دو جین برابر عدد است.

۵- مریم ۷ دفتر خرید، دانه‌ای ۹۰ تومان و یک اسکناس ۱۰۰۰ تومانی به فروشنده داد.

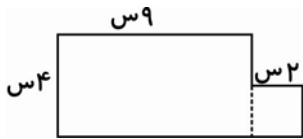
الف) مریم چند تومان خرج کرده است؟

ب) مریم چند تومان باید پس بگیرد؟

۶- نام پاره خط «س م» را در هر شکل بنویسید.



۷- مساحت شکل زیر را به دست آورید.



۸- کلاس سوم ۲۸ نفر دانش آموز دارد. اگر ربع این دانش آموزان عضو کتابخانه باشند، چند نفر عضو کتابخانه هستند؟

کتابخانه هستند؟

۹- ضرب و تقسیم زیر را انجام دهید.

$$\begin{array}{r} ۴۵۲۱ \\ \times ۳ \\ \hline \end{array}$$

$$\begin{array}{r} ۸۲ \overline{) ۹} \\ \hline \end{array}$$

۱۰- بزرگ ترین عدد چهار رقمی و کوچک ترین عدد چهار رقمی را بنویسید و این دو عدد را از هم تفریق کنید.



(بدون تکرار ارقام)

۱۱- زمینی است به شکل مستطیل که طول آن ۸ متر و عرض آن ۵ متر است. محیط این زمین چند متر است؟



۱۲- دو خط رو به رو نسبت به هم چه وضعی دارند؟.....

۱۳- هر یک از شکل‌های زیر چند خط تقارن دارند؟



۱۴- شعاع دایره‌ای ۳۲۸ سانتی‌متر است. قطر دایره را حساب کنید.

۱۵- در جاهای خالی علامت $<=>$ قرار دهید.

$$\frac{1}{4} \square \frac{1}{5}$$

$$300 + 5 \square 300 - 5$$

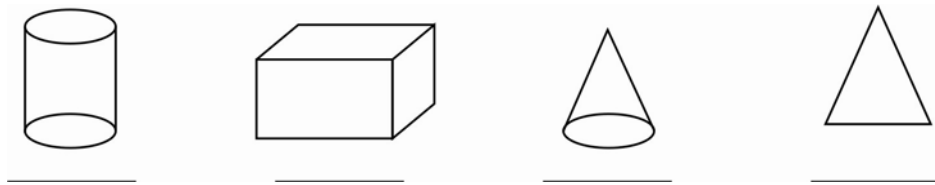
$$7 \times 6 \square 6 \times 8$$

$$\frac{2}{4} \square \frac{1}{4}$$

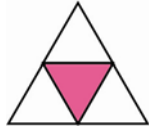
$$5 \div 5 \square 5$$

$$3 \times 9 \square 9 \times 3$$

۱۶- نام شکل‌های زیر را بنویسید.



۱۷- چه کسری از مثلث روبرو رنگ شده است؟.....



چه کسری از مثلث رنگ نشده است؟.....

۱۸- طول طنابی ۳ متر و ۴ سانتی‌متر و ۷ میلی‌متر است. طول این طناب چند میلی‌متر است؟

۱۹- اگر وزن یک خربزه از ۴ کیلوگرم، ۳۵۰ گرم کمتر باشد، وزن این خربزه چند گرم است؟

۲۰- ساعت ۱۸:۱۵ یعنی ساعت چند بعد از ظهر است؟

۲۱- محیط یک مثلث متساوی الاضلاع ۲۷ سانتی متر است. طول هر ضلع این مثلث چند سانتی متر است؟

۲۲- در جاهای خالی کلمه‌ی مناسب را به کار ببرید.

هر مثلث که دو ضلع هم‌اندازه داشته باشد، مثلث نام دارد.

برای مقایسه‌ی جرم دو چیز از وسیله‌ای به نام استفاده می‌شود.

در هر دایره اندازه‌ی قطر شعاع است.

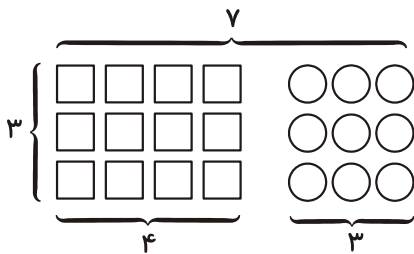
۲۳- ربع مربع‌ها را رنگ کنید.



۲۴- مریم یک کتاب ۴۰ صفحه‌ای دارد، خمس آن را خوانده است. مریم چند صفحه از کتاب را خوانده است؟

چند صفحه از کتاب را نخوانده است؟

۲۵- در جاهای خالی اعداد مناسب بنویسید.



$$3 \times 7 = (3 \times \square) + (\square \times \square)$$

۲۶- اکرم ۳۰۰۰ ریال داشت. او ۵ کتاب ۲۸۰ ریالی و یک کیف به قیمت ۸۹۰ ریال خرید. اکرم چند ریال خرج

کرده است؟ چند ریال برایش باقی مانده است؟

۲۷- حاصل جمع‌های زیر را بنویسید و امتحان کنید.

$$\begin{array}{r} ۹۳۵۱ \\ + ۴۳۵۴ \\ \hline \end{array} \qquad \begin{array}{r} ۷۸۱۰۲ \\ + ۲۱۵۴۳ \\ + \quad ۳۴۵ \\ \hline \end{array}$$

۲۸- میوه فروشی ۳۷۴ کیلوگرم میوه داشت. او بار اول ۷۴ کیلوگرم و در بار دوم ۲۰۰ کیلوگرم میوه فروخته

است. او جمعاً چند کیلوگرم میوه فروخته است؟ و چند کیلوگرم میوه باقی مانده است؟

۲۹- با پنج رقم ۴، ۰، ۶، ۸ و ۲ بزرگ‌ترین و کوچک‌ترین عدد پنج رقمی را بنویسید. (بدون تکرار ارقام)

۳۰- ساعت زیر را با استفاده از کلمات ربع و نیم بخوانید.





- ۳۱- ماهی در هنگام حرکت سریع کدام باله را تکان می دهد؟
- ۳۲- چرا غذای پرندگان با هم فرق دارد؟
- ۳۳- کار ساقه چیست؟
- ۳۴- آبی که از بارندگی به زمین می رسد، چه می شود؟
- ۳۵- کار ماهیچه در بدن ما چیست؟
- ۳۶- چه شباهتی بین اسکلت بدن و اسکلت ساختمان وجود دارد؟
- ۳۷- بیش تر جانداران دریایی در کدام قسمت دریا زندگی می کنند؟
- ۳۸- امواج، ساحل ماسه ای را بیش تر خراب می کنند یا ساحل سنگی را؟ چرا؟
- ۳۹- در تصفیه خانه ها برای از بین بردن میکروب های آب چه می کنند؟
- ۴۰- از دریا چه استفاده هایی می شود؟
- ۴۱- ماهیچه های ارادی مانند: و؟
- ۴۲- ماهیچه های غیر ارادی مانند: و؟
- ۴۳- کار ماهیچه ی معده چیست؟
- ۴۴- چند نوع غذای گیاهی پروتئین دار را نام ببرید.
- ۴۵- چرا رانندگان در روزهای گرم تابستان، هوای چرخ های ماشین خود را کمی خالی می کنند؟



۴۶- برای شمارش هر یک از وسایل زیر از چه کلمه‌ای استفاده می‌شود؟

فرش () لباس گرم ()

جوراب () کتاب ()

۴۷- معنی «گشت» را در جمله‌ی زیر بنویسید.

ناصر خسرو، شاعر بزرگ ایران، شهر به شهر می‌رفت و ایران را می‌گشت.

۴۸- با کلمه‌ی داخل کمانک جمله را تغییر دهید.

امروزه مسافرت بسیار آسان شده است. (در آینده)

۴۹- با هر دو کلمه یک جمله بسازید. (خورشید - جنگل - درخشان - سرسبز)

۵۰- جمع کلمه‌های زیر را بنویسید.

کتاب () فرزند () تعمیر ()

۵۱- کلمه‌های (زیبا - زیباترین - زیباتر) را در جاهای مناسب قرار دهید.

این گل گل‌هاست.

این گل است.

این گل از گل‌های دیگر است.

۵۲- فعل‌های جمله‌های زیر را بنویسید.

در کوه‌نوردی باید هم‌کاری و تعاون

خدا، پیامبران را فرستاده تا راه بهتر زندگی کردن را به ما

۵۳- مخالف کلمه‌های زیر را بنویسید.

گریه ≠ تمیز ≠ غروب ≠ سیراب ≠

۵۴- با کلمات داخل کمانک جمله‌ی زیر را تغییر دهید.

دانش‌آموزان، هرگز شهیدان را فراموش نمی‌کنند.

(علی، نمی‌کند)

۵۵- به این کلمه‌ها «مند» اضافه کنید و معنی آن‌ها را بنویسید.

کار + ← نیرو + ←

۵۶- هم‌خانواده‌ی کلمات زیر را بنویسید.

هنر شنوا

خواب نماز

۵۷- به جای کلمه‌هایی که زیر آن‌ها خط کشیده شده، کلمه‌ی هم‌معنی بنویسید.

شهید محمدحسین فهمیده انسانی فهمیده بود.

حسن امیدزاده معلّمی از خود گذشته بود.

ریزعلی خواجه‌ی انسانی تترس بود.

۵۸- هر نویسنده یا شاعر را به اثرش وصل کنید.

سعدی	ابوعلی سینا	مولوی	فردوسی
قانون	مثنوی	شاهنامه	گلستان

۵۹- کامل کنید.

اگر دریا

لبخند صورت‌ها را می‌کند.

داشتیم از خیابان عبور

هوای آلوده گل‌ها را می‌کند.

۶۰- به متن زیر (از، را، به، که) اضافه کنید.

صبح زود برای ورزش کردن حیاط خانه آمدم. ناگهان دیدم غنچه‌ای دیشب


بسته بود، باز شده است.

معلّم دانش‌آموزان خواست تمرینات ریاضی حل کنند.

۶۱- درخت چه می گوید؟ در سه جمله بنویسید.



۶۲- درباره‌ی تصویر زیر داستانی بنویسید.



۶۳- جاهای خالی را با جواب مناسب کامل کنید.

- آموزشگاه مخصوص پسران آموزشگاه

- روزگاری انسان با پای پیاده به مسافرت

- نخستین بار یکی از دانشمندان مسلمان به نام ، بالهایی برای پرواز ساخت.

- سعدی اهل بود و یکی از کتاب‌های معروف او نام دارد.

۶۴- کلمات روبه‌رو را در جدول زیر قرار بدهید. خاطره - معلّم - نمک - دانش

ان	ات	آموز	دان

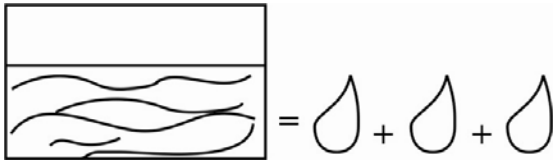
۶۵- به کلمه‌ی زیر «ین» اضافه کنید و جمله بسازید.

آهن

۶۶- بنویس در هر تصویر چه باید بکنی.



۶۷- ضرب‌المثل مربوط به این تصویر را بنویسید.



۶۸- تفاوت دو خیابان را بنویسید.



۶۹- با کلمه‌ی «باز» دو جمله بسازید که معنی کلمه‌ی «باز» در هر کدام از جمله‌ها متفاوت باشد.

باز ←

باز ←

۷۰- هر کدام چه چیزهایی را به خاطر شما می‌آورد؟ دو نمونه بنویسید.

معلم: ورزش:

۷۱- با کلمه‌های داخل کمانک جمله را تغییر بدهید و آن‌ها را بنویسید.

من می‌خواهم به دوستم زنگ بزنم. (او، شما)

۷۲- در جاهای خالی از علامت‌های (؛ . ؟) استفاده کنید.

آموزگار گفت () دانش‌آموزان همه خوب گوش می‌دادند ()

چرا شما به کلاس نیامدید ()

۷۳- به این کلمه‌ها (بان) اضافه کنید و معنی آن‌ها را بنویسید.

در + =

باغ + =

۷۴- کلمه‌ی مناسب را در جاهای خالی قرار بدهید.

(الف) گرما مخالف است. (دریا - سفید - سرما)

(ب) پدرم یک کتاب (شکست - خورد - پرید - خرید)

(ج) فردا به مدرسه (نمی‌روم - نمی‌خورم - نمی‌شوم)

(د) در دریا با مسافرت می‌کنند. (هوایما - قطار - کشتی)

۷۵- با کلمات داده شده کلمه‌های جدید بنویسید.





۷۶- «ایل» یعنی چه؟

۷۷- جمعیت روستا بیش تر است یا شهر؟

۷۸- نماز مسافر چگونه است؟

۷۹- چرا افراد ایل کوچ می کنند؟

۸۰- چرا باید همه ی افراد خانواده در کارهای خانه کمک کنند؟

۸۱- چه فرقی بین بازار و خیابان وجود دارد؟

۸۲- فرق زندگی روستایی با زندگی ایلی چیست؟

۸۳- عرق گل‌ها و گیاهان صحرایی چه فایده‌ای دارد؟

۸۴- «تختی» که بود و چرا مدال‌های خود را به موزه‌ی حضرت امام رضا (علیه‌السلام) داده بود؟

۸۵- چهار نفر را نام ببرید که آرامگاه آن‌ها در شهر نیشابور است.

۸۶- خانم معلّم درباره‌ی علامت مخصوص جمهوری اسلامی چه گفته بود؟

۸۷- «آب و هوای معتدل» را تعریف کنید.

۸۸- در موزه چه چیزهایی را نگه‌داری می کنند؟

۸۹- چرا برنج بیش تر در شمال ایران کشت می شود؟

۹۰- چرا مأمون امام رضا (علیه‌السلام) را به شهادت رساند؟