



۱- شکل زیر را در دسته‌های ده تایی قرار دهید و در جاهای خالی اعداد مناسب بنویسید.



ده تایی	یکی

یکی

ده تایی

۲- جمع‌های زیر را انجام دهید.

$$(7 + 3) + 4 = \square$$

$$9 + (1 + 6) = (9 + \dots) + 6 = \square$$

۳- نام خط‌های زیر را بنویسید.



۴- دو خط راست بکش که یک دیگر را قطع کنند. سپس نقطه‌ی مشترک را پررنگ کن.

۵- تفریق را روی محور نشان بده و در جای خالی عدد مناسب بنویس .

$$۱۳ - ۶ = \dots$$



۶- در یک سبد میوه ۷ سیب، ۳ موز و ۶ پرتقال چیده‌ایم. تعداد میوه‌ها در این سبد چندتا است؟ (با استفاده از

پراتنژ حل شود.)

۷- ساعت سمت چپ را بخوان و برای ساعت سمت راست عقربه بگذار.



ساعت ... و ... دقیقه



۹ : ۱۰

۸- با توجه به شکل، جدول را کامل کن و در جاهای خالی عدد و کلمه‌ی مناسب را بنویس.

صدتایی	دهتایی	یکی



به عدد: ...

به حروف: ...

۹- گل زیبای من اعداد را به همان ترتیبی که می‌بینی ادامه بده.



۵۲-۵۴ --.....-.....

۳۰-۳۵ --.....-.....

۱۰- اعداد را به ترتیب ادامه بده.


۲۳۶ - - - -

۱۱- جدول را کامل کنید.

شکل		
تعداد ضلع		
تعداد قطر		

۱۲- زهره خیاط است. او در سه ماه گذشته ۱۷ پیراهن مردانه و ۲۳ پیراهن زنانه و ۱۸ پیراهن دخترانه دوخته است. او در ماه گذشته چند پیراهن دوخته است؟

۱۳- از بین سکه‌های زیر، ۱۵۲ ریال را جدا کرده و دور آن خط بکشید.



۱۴- ۷۰۰ سانتی‌متر چند متر است؟

۳۷۹ سانتی‌متر، ... متر و ... سانتی‌متر است.

۱۵- عددهای زیر را به حروف و رقم بنویسید.

	۳۶۰		۷۳۹
نه صد و چهل و دو		صد و دوازده	

۱۶- جمع‌های زیر را انجام دهید.

$$۶ + (۴ + ۱) = (۶ + \dots) + ۱ = \dots$$

$$۹ + (۱ + ۴) = (۹ + \dots) + ۴ = \dots$$

۱۷- در یک طرف خیابانی ۳۹ درخت و در طرف دیگر آن ۴۲ درخت کاشته‌اند. در این خیابان چند درخت کاشته

شده است؟

۱۸- محصول برنج محمد در سال گذشته ۶۳۰ کیلوگرم بوده است. محصول برنج او امسال ۲۹۴ کیلوگرم است.

محصول برنج او در دو سال جمعاً چند کیلوگرم شده است؟

۱۹- در جاهای خالی علامت $< = >$ بگذارید.

$$۳۹۷ \square ۳۷۹$$

$$\text{پنج صدتایی} \square ۵۰۰$$

$$۴۰۵ \square ۵۰۴$$

$$۵+۴ \square ۵۴$$

$$۴+۸ \square ۱۹-۵$$

$$۴۸ \square ۳۲$$

۲۰- جمع و تفریق کنید.

$$۲+۸+۶ = \square$$

$$۱۷ - \square = ۸$$

$$۹ - ۰ = \square$$

$$\begin{array}{r} ۴۷ \\ -۲۸ \\ \hline \end{array}$$

$$\begin{array}{r} ۳۷۶ \\ +۴۵۷ \\ \hline \end{array}$$


$$\begin{array}{r} ۲۵۰ \\ -۱۴۶ \\ \hline \end{array}$$



۲۱- دانه‌های زیر را در دو دسته، طبقه‌بندی کن: لویا - عدس - گندم - نخود - برنج

دانه‌ی دو قسمتی	دانه‌ی تک قسمتی

۲۲- مراحل رشد دانه را در ۴ مرحله نقاشی کنید.



۲۳- نام جانوری را که هم در آب و هم در خشکی زندگی می‌کند، بنویس.

۲۴- چه چیزهایی محیط زندگی ما را آلوده می‌کنند؟

۲۵- جدول زیر را با نام جانوران مناسب پر کنید.

پوشش بدن	سخت و محکم	پولک	پشم	مو	پر
نام جانور					

۲۶- مواد زیر را در سه گروه ماده، طبقه‌بندی کنید.

آب، هوا، قند، شیر، مداد، بخار آب

۲۷- چه کنیم تا آب، به حالت جامد یا گاز درآید؟

۲۸- چگونه می‌توانیم حجم سه ظرف مختلف را مقایسه کنیم؟

۲۹- آیا هر چیزی که جای بیش‌تری بگیرد، جرم بیش‌تری هم دارد؟ مثال بزنید.

۳۰- در هر کدام از کارهای زیر، جهت وارد شدن نیرو به کدام سمت است؟

کشیدن کشو- بلند کردن چیزها- کوبیدن میخ با چکش- هل دادن گاری

۳۱- از نور چه استفاده‌هایی می‌کنیم؟

۳۲- صدای کودکان با بزرگسالان چه فرقی دارد؟

۳۳- هوا در انجام دادن چه کارهایی به ما کمک می‌کند؟

۳۴- دماسنج چیست؟

۳۵- چرا در زمستان هوا سرد است؟

۳۶- طوفان چه ضررهایی دارد؟

۳۷- سیل چگونه به وجود می‌آید؟

۳۸- باد، بیابان‌ها را بیش‌تر تغییر می‌دهد یا جنگل‌ها را؟

۳۹- آب، زمین را بیش‌تر تغییر می‌دهد یا باد؟ چرا؟

۴۰- برای آن‌که خوب رشد کنید، به چه چیزهایی نیاز دارید؟



۴۱- با توجه به مثال جمله‌ها را تغییر بده.

مثال: من هنرمند هستم. ← من هنرمند خواهم شد.

او نقاشی می‌کشد. ←

ما به مشهد رفتیم. ←

۴۲- جاهای خالی را با استفاده از کلمات داخل کمانک کامل کن. (کتیف- خواهیم رفت- حتماً- دقت- لبخند)

۱- ما هفته‌ی دیگر به مسافرت

۲- میکروب‌ها در جاهای ... زندگی می‌کنند.

۳- ... قبل از خوابیدن مسواک بزنید.

۴- برای این که یاد بگیریم باید با ... درس بخوانیم.

۴۳- معنی کن.

با عجله یعنی: ... نامهربان یعنی: ...

۴۴- کامل کنید.

مرغک یعنی

نابینا به کسی می‌گویند که

به کسی که اهل شیراز است ... می‌گویند.

به کسی که با گل چیزهای سفالی می‌سازد ... می‌گویند.

کارگاه جایی است که در آن ...

رنگ سبز پرچم نشانه‌ی ... است.

۴۵- با دو معنای متفاوت کلمه‌ی شیر، دو جمله بنویس.

شیر:

شیر:

۴۶- کلمه‌های زیر را طبقه‌بندی کنید.

شلوار - گوشت - پارچه - تخم مرغ

پختنی‌ها	دوختنی‌ها

۴۷- به جای کلمات داخل کمانک کلمات مناسب دیگری بگذارید.

ما باید از حیوانات (مواظبت) کنیم.

اگر فاطمه خوابیده باشد (آهسته) راه می‌روم.

۴۸- جمله‌های به هم ریخته‌ی زیر را مرتب کن و دوباره بنویس.

می‌خواهیم - در - انجام - کارها - خدا - از - یاری

ماهری - شده - کوشا - پزشک - بود

۴۹- با هریک از کلمه‌ها و ترکیب‌های زیر، یک جمله بساز.

پرواز:

تلاش:

باغ سرسبز:

درخت‌ها:

زیباتر:

۵۰- جاهای خالی را با کلمه‌های (من، تو، او، ما، شما، آن‌ها) پر کن.

... باید مراقب دندان‌هایت باشی.

... تصمیم گرفتند که با هم مهربان باشند.



۵۱- چه وقت هایی سلام می کنیم؟

۵۲- چرا خدا دیگران را آفریده است؟

۵۳- رفتار پیامبر با کودکان بی سرپرست چگونه بود؟

۵۴- اهل بیت پیامبر چند نفر بودند؟ نام ببرید؟

۵۵- درباره ی امام زمان (عج) چه می دانی؟